

Итоговая контрольная работа за курс географии 8 класса

Вариант 1.

1. По какому из перечисленных показателей Россия занимает первое место в мире?

- 1) численность населения
- 2) площадь пахотных земель
- 3) разведанные запасы нефти
- 4) площадь территории

2. Какое утверждение о территории и географическом положении России является верным?

- 1) Часть территории России расположена в Западном полушарии.
- 2) Территория России расположена в трёх частях света.
- 3) Территорию России омывают воды четырёх океанов.
- 4) Более половины территории страны находится за Северным полярным кругом.

3. На территории какой области расположена крайняя западная точка России?

- 1) Мурманская
- 2) Ленинградская
- 3) Калининградская
- 4) Воронежская

4. Какой из перечисленных городов России расположен в сейсмоопасной зоне?

- 1) Астрахань
- 2) Новосибирск
- 3) Пермь
- 4) Иркутск

5. Восточно-Европейскую и Западно-Сибирскую равнины разделяет (-ют):

- 1) река Обь
- 2) Уральские горы
- 3) река Енисей
- 4) горы Алтай

6. Какое из перечисленных морей омывает восточные берега России?

- 1) Азовское
- 2) Баренцево
- 3) Охотское
- 4) Лаптевых

7. Огромные валуны, встречающиеся на территории северо-запада России –это результат:

- 1) деятельности текучих вод
- 2) деятельности ветра
- 3) деятельности древнего ледника
- 4) извержений древних вулканов

8. Определите, какой из перечисленных городов России может наиболее пострадать в случае повышения уровня Мирового океана, вызванного глобальным потеплением климата.

- 1) Новосибирск
- 2) Санкт-Петербург
- 3) Москва
- 4) Казань

9. Какая природно-хозяйственная зона занимает наибольшую часть территорию России?

- 1) лесостепь
- 2) тайга

3) смешанные и широколиственные леса

4) тундра и лесотундра

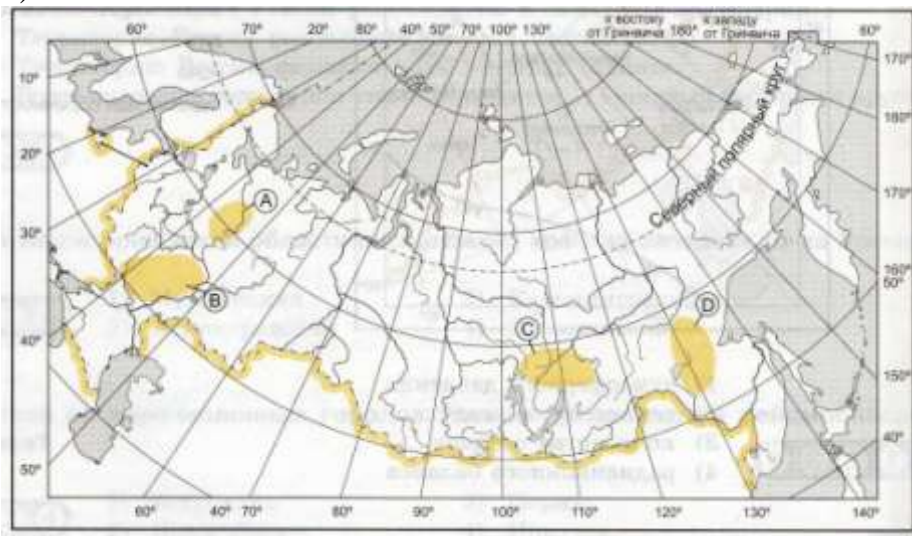
10. Какая из обозначенных на карте буквами территорий имеет наиболее благоприятные условия для ведения сельского хозяйства?

1) А

2) В

3) С

4) D



11. На какой из перечисленных рек наводнения чаще происходят в летнее время?

1) Амур

2) Дон

3) Волга

4) Кама

12. Какой из перечисленных городов России является наиболее крупным по численности населения?

1) Калининград

2) Тюмень

3) Нижний Новгород

4) Ярославль

13. Какой из перечисленных народов компактно проживает в азиатской части России?

1) коми

2) башкиры

3) карелы

4) тувинцы

14. Оленеводство и рыболовство являются традиционными занятиями:

1) башкир

2) ненцев

3) калмыков

4) кабардинцев

15. Расположите субъекты Российской Федерации в последовательности, в которой их жители встречают Новый год.

А) Красноярский край

Б) Краснодарский край

В) Приморский край

Запишите получившуюся последовательность букв

16. Расположите города в порядке понижения значений средних температур января на их территории.

- А) Санкт-Петербург
- Б) Красноярск
- В) Екатеринбург

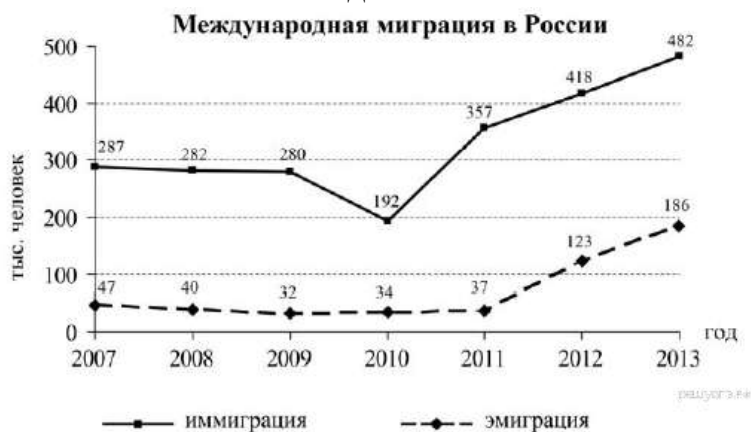
17. Установите соответствие между видами природных ресурсов и типами, к которым они относятся.

ВИДЫ РЕСУРСОВ ТИПЫ РЕСУРСОВ

- 1. энергия ветра А) исчерпаемые возобновимые
- 2. минеральные Б) исчерпаемые невозобновимые
- 3. лесные В) неисчерпаемые
- 4. почвенные

18. Определите величину миграционного прироста населения России в 2013 г.

г. Ответ запишите в виде числа.



Ответ: _____ чел

19. Используя график, определите показатель естественного прироста населения в России в 2000 г.



20. Как называется процесс смены людьми их постоянного места жительства, о котором идёт речь в приведённом ниже тексте?

С начала XXI века около миллиона семей уехали из России на постоянное место жительства в зарубежные страны. Большинство из них покинули Родину в поисках более высокооплачиваемой работы, но далеко не всем из них удалось найти её.

21. Приведите пример национально-территориального образования, большая часть населения которого исповедует буддизм.

22. Город Владивосток расположен примерно на одинаковой широте с городом Сочи. Но зимы во Владивостоке более суровые. Объясните такое различие в климате этих городов

Итоговая контрольная работа за курс географии 8 класса

Вариант 2.

1. По какому из перечисленных показателей Россия занимает первое место в мире?

- 1) средняя продолжительность жизни населения
- 2) разведанные запасы природного газа
- 3) площадь пахотных земель
- 4) площадь современного оледенения

2. Какое утверждение о территории и географическом положении России является верным?

- 1) Большая часть территории находится в умеренном климатическом поясе.
- 2) Протяжённость территории с севера на юг больше, чем с запада на восток.
- 3) Территория России расположена в трёх частях света.
- 4) Крайняя западная точка России является крайней западной точкой Евразии.

3. На территории какой области расположена крайняя западная точка России?

- 1) Мурманская
- 2) Ленинградская
- 3) Калининградская
- 4) Воронежская

4. Какой из перечисленных городов России расположен в сейсмоопасной зоне?

- 1) Волгоград
- 2) Ростов-на-Дону
- 3) Курс
- 4) Петропавловск-Камчатский

5. Восточно-Европейскую и Западно-Сибирскую равнины разделяет (-ют):

- 1) река Обь
- 2) Уральские горы
- 3) река Енисей
- 4) горы Алтай

6. Какое из перечисленных морей омывает северные берега России?

- 1) Балтийское
- 2) Карское
- 3) Охотское
- 4) Японское

7. Огромные валуны, встречающиеся на территории северо-запада России –это результат:

- 1) деятельности текучих вод
- 2) деятельности ветра
- 3) деятельности древнего ледника
- 4) извержений древних вулканов

8. В каком из перечисленных субъектов Российской Федерации сплошное распространение многолетней мерзлоты?

- 1) Республика Карелия
- 2) Краснодарский край
- 3) Астраханская область
- 4) Республика Саха (Якутия)

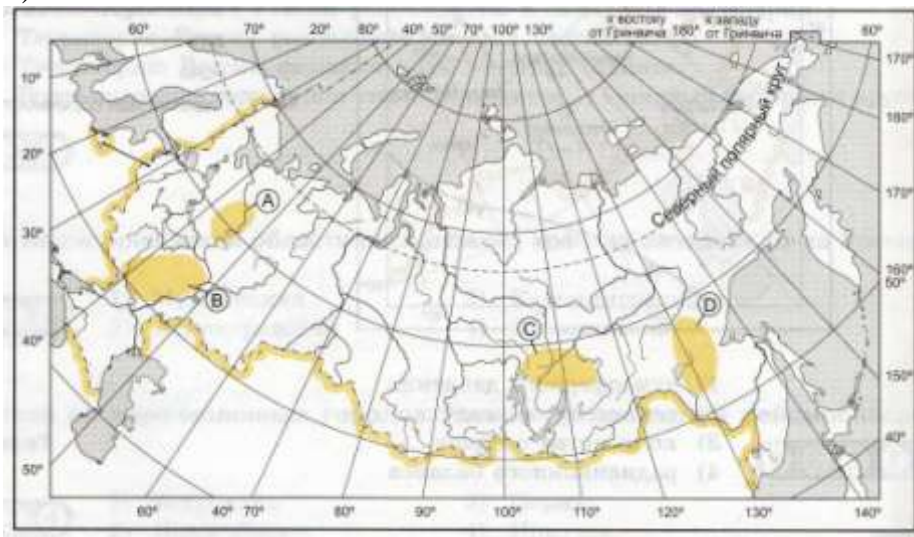
9. Какая природно-хозяйственная зона России наиболее изменена человеком?

- 1) степь

- 2) тайга
- 3) смешанные и широколиственные леса
- 4) тундра и лесотундра

10. Какая из обозначенных на карте буквами территорий имеет наиболее благоприятные условия для ведения сельского хозяйства?

- 1) А
- 2) В
- 3) С
- 4) D



11. На какой из перечисленных рек наводнения чаще происходят в летнее время?

- 1) Амур
- 2) Дон
- 3) Волга
- 4) Кама

12. Какой из перечисленных городов России является наиболее крупным по численности населения?

- 1) Ростов-на-Дону
- 2) Астрахань
- 3) Красноярск
- 4) Ярославль

13. Основной район проживания какого из перечисленных народов России находится к северу от Северного полярного круга?

- 1) долганцы
- 2) калмыки
- 3) башкиры
- 4) буряты

14. Пастбищное животноводство является традиционным занятием для:

- 1) карелов
- 2) удмуртов
- 3) калмыков
- 4) коми

15. Расположите субъекты Российской Федерации в последовательности, в которой их жители встречают Новый год.

- А) Республика Башкортостан
- Б) Республика Бурятия
- В) Республика Карелия

Запишите получившуюся последовательность букв

16. Расположите города в порядке понижения значений средних температур января на их территории.

- А) Омск
- Б) Иркутск
- В) Москва

Запишите получившуюся последовательность букв

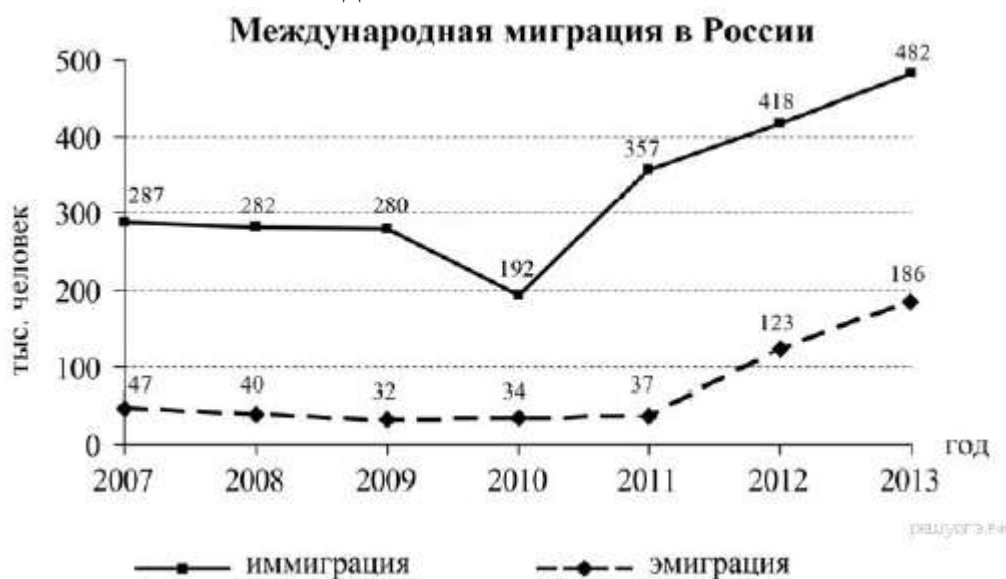
17. Установите соответствие между видами природных ресурсов и типами, к которым они относятся.

ВИДЫ РЕСУРСОВ ТИПЫ РЕСУРСОВ

- 1. солнечная энергия А) исчерпаемые возобновимые
- 2. минеральные Б) исчерпаемые невозобновимые
- 3. лесные В) неисчерпаемые
- 4. почвенные

18. Определите величину миграционного прироста населения России в 2013 г.

г. Ответ запишите в виде числа.



Ответ: _____ чел

19. Используя график, определите показатель естественного прироста населения в России в 2008 г



20. Как называется процесс смены людьми их постоянного места жительства, о котором идёт речь в приведённом ниже тексте?

С начала XXI века около миллиона людей Таджикистана приехали в Россию для поиска работы. Большинство из них покинули Родину в поисках оплачиваемой работы.

21. Приведите пример национально-территориального образования, большая часть населения которого исповедует ислам.

22. Город Владивосток расположен примерно на одинаковой широте с городом Сочи. Но зимы во Владивостоке более суровые. Объясните такое различие в климате этих городов

Ключ к работе

Вариант 1

1. 4
2. 1
3. 3
4. 4
5. 2
6. 3
7. 3
8. 2
9. 2
10. 2
11. 1
12. 3
13. 4
14. 2
15. ВАБ
16. АВБ
17. 1-В 2 –Б 3-А 4-А
18. 296000
19. -6,6
20. Эмиграция
21. Любой вариант ответов: Бурятия, Тыва, Калмыкия
22. Владивосток находится в умеренном муссонном климате. На Дальнем Востоке муссонная циркуляция атмосферы: летом ветры дуют со стороны ещё не успевшего прогреться Тихого океана, принося осадки и обуславливая достаточно низкую для этой широты температуру воздуха. Зимой над Монголией и Восточной Сибирью формируется Азиатский максимум, из которого приходят антициклоны, вызывающие морозы и не приносящие осадков.

В Сочи климат переходный между субтропическим средиземноморским и умеренным умеренно континентальным. Циркуляция атмосферы - западный перенос умеренных широт или пассатная. Чёрное море на климат не оказывает на климат столь существенного охлаждающего или утепляющего влияния, как Тихий океан. В связи с этим определяющим климатообразующим фактором становится географическая широта. Солнце сильно прогревает воздух, отсюда тёплая зима и жаркое лето.

Вариант 2

1. 2
2. 1
3. 3

4. 4
5. 2
6. 2
7. 3
8. 4
9. 1
10. 2
11. 1
12. 1
13. 1
14. 4
15. БАВ
16. ВАБ
17. 1-В 2-Б 3-А 4-А
18. 296000
19. – 2,5
20. Иммиграция
21. Любой вариант ответов: Дагестан, Чечня, Северная Осетия, Кабардино- Балкария, Карачаево-Черкессия, Адыгея. Татарстан, Башкортостан.
22. Владивосток находится в умеренном муссонном климате. На Дальнем Востоке муссонная циркуляция атмосферы: летом ветры дуют со стороны ещё не успевшего прогреться Тихого океана, принося осадки и обуславливая достаточно низкую для этой широты температуру воздуха. Зимой над Монголией и Восточной Сибирью формируется Азиатский максимум, из которого приходят антициклоны, вызывающие морозы и не приносящие осадков.

В Сочи климат переходный между субтропическим средиземноморским и умеренным умеренно континентальным. Циркуляция атмосферы - западный перенос умеренных широт или пассатная. Чёрное море на климат не оказывает на климат столь существенного охлаждающего или утепляющего влияния, как Тихий океан. В связи с этим определяющим климатообразующим фактором становится географическая широта. Солнце сильно прогревает воздух, отсюда тёплая зима и жаркое лето.